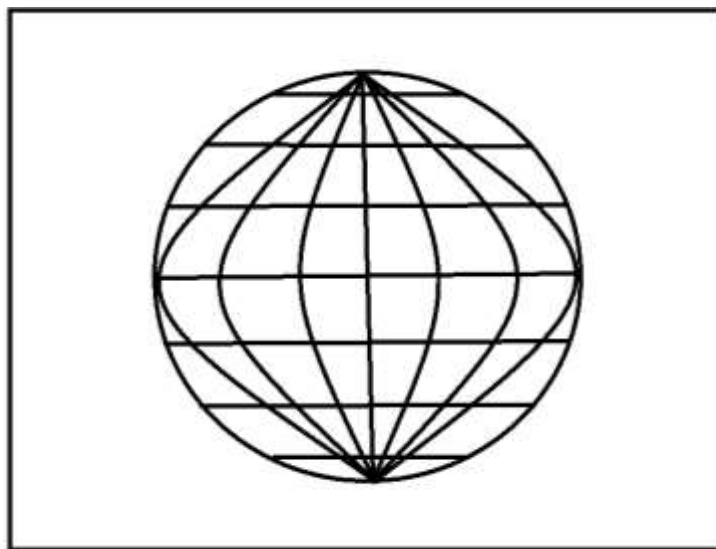


**Begabtenförderung in Geographie in der 7. Jahrgangsstufe**

**auf Grund der Arbeitsblättern von**

**Rugli Iлона: Földrajz feladatlapok az általános iskola 7. évfolyama számára (00776/F)**



**erstellt und übersetzt**

**von**

**László Horváth**

**2019/2020**

**Zalaegerszeg**

**Test 1**

**Variante A**

**Afrika und Australien**

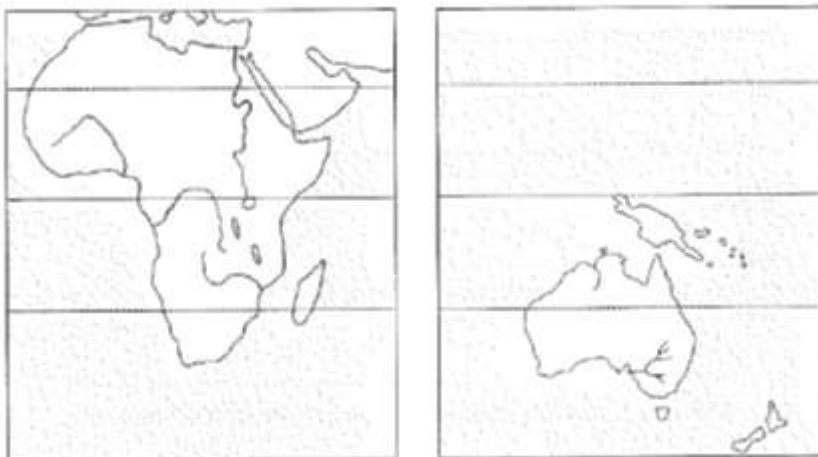
**1. Bestimme die Koordinaten der Hauptstadt vom Staatenbund von Australien!** /5 P.

Name der Hauptstadt: .....  
Koordinaten: .....<sup>0</sup> ..... Breite  
                  .....<sup>0</sup> ..... Länge

**Zu den folgenden Aufgaben darfst du keinen Atlas benutzen!**


**2. Trage die Nummer der folgenden Landschaften und Flüsse auf der Kartenskizze richtig ein!** /5 P.

1. Atlas, 2. Kongobecken, 3. Australisches Tafelland, 4. Neuguinea, 5. Sambesi



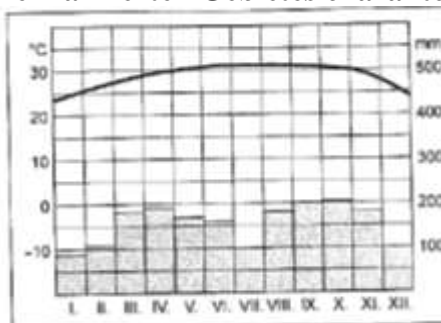
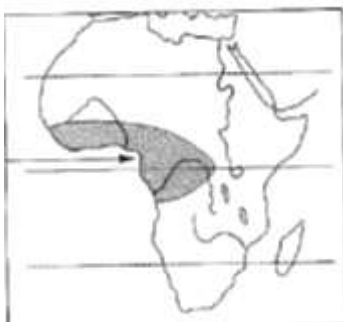
**2. Was stellt die Abbildung dar?** /2 P.

.....



**Zeichne im Kästchen aus den Gesteinsschichten Verwerfungsformen!**

**4. Was ist für das Klima des auf der Kartenskizze markierten Gebietes charakteristisch?** / 6 P.



Klimazone: .....  
Klimaregion: .....  
Temperatur: .....  
Niederschlag: .....  
Temperaturschwankung: .....  
Natürliche Pflanzendecke/Vegetation: .....

**5. Male auf der obigen Kartenskizze die Gebiete mit Mittelmeerklima/ mediterranem Klima aus!** /6 P.

Natürliche Pflanzendecke/Vegetation: .....  
Nenne zwei typische Pflanzenarten des Mittelmeerklimas. ....  
Welche Tiere züchtet man hier? Zähle mindestens zwei Nutztiere auf!.....

**6. Welche Landwirtschaftsformen kennst du in den Tropen?** /7 P.

a, ..... b, .....

Beschreibe nach den folgenden Gesichtspunkten die Landwirtschaftsform, in der die meisten Menschen arbeiten!

Wem gehört der Acker? .....  
Für wen produziert man hier? .....  
Wie bearbeitet man den Boden? .....  
Was züchtet man hier? .....  
In welchen Regionen ist diese Landwirtschaftsform charakteristisch? .....

**7. Zähle drei Produkte aus Australien auf, in deren Produktion Australien zu den besten Ländern der Welt gehört!** /3 P.

**8. Warum ist es notwendig, in Afrika Naturschutzgebiete anzulegen?** /6 P.

Wo legte man schon solche Gebiete an?

Welche Tiere leben in diesen Naturschutzgebieten? Zähle mindestens vier Tiere auf!

Insgesamt: ...../40 P.

Test 2

Variante B

Afrika und Australien

1. Bestimme die Koordinaten der Hauptstadt von Ägypten!

/ 5 P.

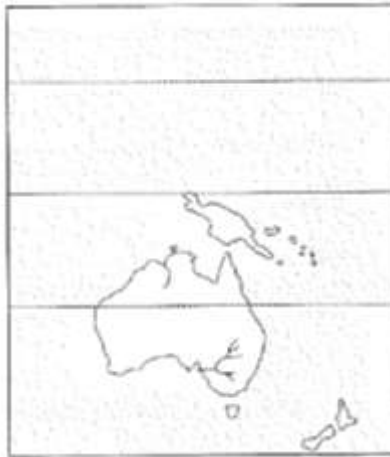
Name der Hauptstadt: .....

Koordinaten: .....<sup>0</sup> ..... Breite  
.....<sup>0</sup> ..... Länge

Zu den folgenden Aufgaben darfst du keinen Atlas benutzen!

2. Trage die Nummer der folgenden Landschaften und Flüsse auf der Kartenskizze richtig ein! / 5 P.

- 1. Südafrikanisches Hochland, 2. Sahara, 3. Küstengebiet am Golf von Guinea, 4. Großes Australisches Scheidegebirge, 5. Kongo




3. Beantworte die Frage

/ 2 P.

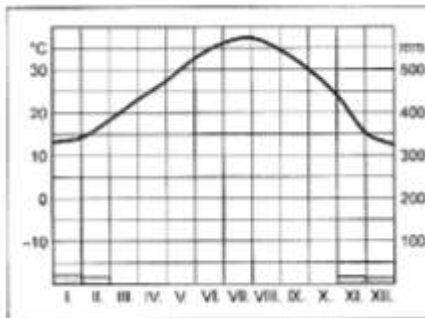
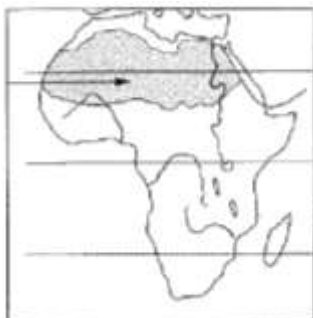
Auf den Gesteinen der Schilde lagerten sich horizontal Sedimentgesteine ab. Solche Schilde nennt man .....

Welche geotektonischen Vorgänge veränderten die Oberfläche der Schilde? Zeichne es im Kästchen!



4. Was ist für das Klima des auf der Kartenskizze markierten Gebietes charakteristisch?

/ 6 P.



Klimazone: .....  
Klimaregion: .....  
Temperatur: .....  
Niederschlag: .....  
Temperaturschwankung: .....  
Wegen welcher Oberflächenformungskraft zerstückeln sich die Gesteine auf der Erdoberfläche?  
.....

**5. Schattiere auf der obigen Kartenskizze die Gebiete mit Savannenklima (wechselfeuchten Tropen)! / 6 P.**

Die natürliche Pflanzendecke dieser Gebiete: .....  
Benenne je zwei Pflanzen- bzw. Tierarten von diesen Klimaregionen!  
Pflanzenarten: .....  
Tierarten: .....

**6. Welche Landwirtschaftsformen kennst du in den Tropen? /7 P.**

a, ..... b, .....

Beschreibe nach den folgenden Gesichtspunkten die Landwirtschaftsform, in der die meisten Menschen arbeiten!

Wem gehört der Acker? .....  
Für wen produziert man hier? .....  
Wie bearbeitet man den Boden? .....  
Was züchtet man hier? .....  
In welchen Regionen ist diese Landwirtschaftsform charakteristisch? .....

**7. Zähle drei Bodenschätze aus Afrika auf, in deren Abbau die afrikanischen Länder zu den besten Ländern der Welt gehören! /3 P.**

.....

**8. Warum ist es notwendig, in Australien Naturschutzgebiete anzulegen? /6 P.**

.....  
.....

**Wo legte man schon solche Gebiete an?**  
.....  
.....

**Welche Tiere leben in diesen Naturschutzgebieten? Zähle mindestens vier Tiere auf!**  
.....

**Insgesamt: ...../40 P.**

## Arbeitsblatt 1

### Variante A

#### Afrika und Australien

1. Bestimme mit Hilfe deines Atlas die Koordinaten der großen afrikanischen Hafenstadt, Kapstadt! /4 P.

Koordinaten: .....<sup>0</sup> ..... Breite  
.....<sup>0</sup> ..... Länge

2. Berechne die Entfernung zwischen Kapstadt und der Hauptstadt der Südafrikanischen Republik in Luftlinie! /3 P.

die Hauptstadt der Südafrikanischen Republik: .....  
die Entfernung der Städte in Luftlinie: .....

3. Lies auf der thematischen Karte Australiens die folgenden Angaben ab: /4 P.

mittlere Januartemperatur von Sydney: .....  
mittlere Julitemperatur von Sydney: .....  
jährliche Niederschlagsmenge von Sydney: .....

Kreise den Temperaturwert des Sommermonates ein!

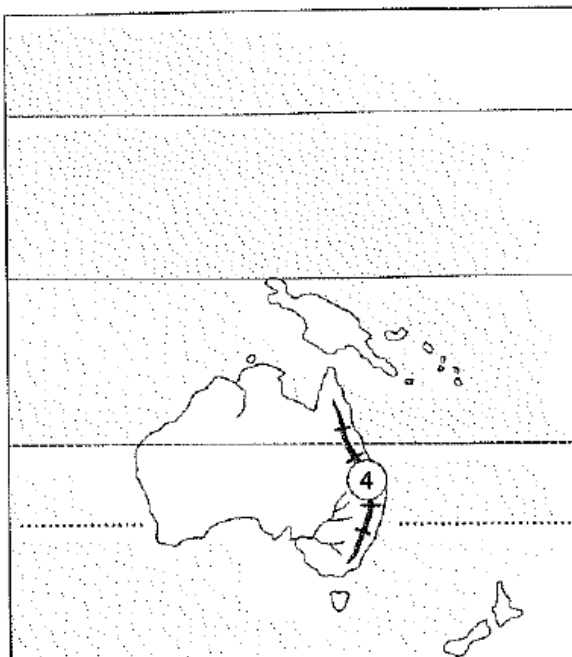
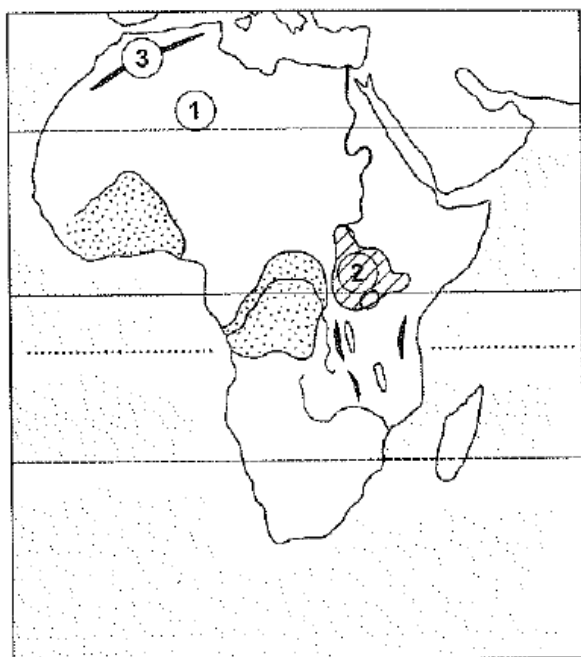
**Zu den folgenden Aufgaben darfst du keinen Atlas benutzen!**

4. Welche Ozeane umgeben die Kontinente? Schreibe den Namen der Ozeane auf die Punktlinie auf der Kartenskizze! /17 P.

Markiere auf der Kartenskizze die Straße von Gibraltar!

Wofür stehen die Zahlen auf der Kartenskizze? Schreibe deren Namen auf die Punktlinie!

1. .... 2. ....  
3. .... 4. ....



**Trage ins Kästchen hinter den Feststellungen die Nummer der entsprechenden Landschaften ein!**

1. abgetragenes Schollengebirge:
2. Auf der Oberfläche befinden sich große Gräben und Bruchlinien, wegen Verwerfung entstanden hier Vulkane:
3. junges Kettengebirge:
4. die größte Wüste der Erde:

**Schreibe den Namen von Sudan und Neuseeland auf der Kartenskizze!**

**Markiere auf der Kartenskizze die Flüsse Kongo und Murray mit ihren Anfangsbuchstaben!**

**5. Welche Klimazone erstreckt sich zwischen dem Wendekreis des Krebses und dem Wendekreis des Steinbocks? /5 P.**

.....

**Auf wessen Grund kann man innerhalb dieser Klimazone Klimaregionen unterscheiden?**

auf Grund .....und.....

Der Wind der Klimazone heißt .....

Die Richtung des Windes: .....

**6. Wie ist das Klima in den folgenden Landschaften? Wie ist die natürliche Pflanzendecke/Vegetation hier? Ergänze die Tabelle! /8 P.**

Name der Landschaft	Klimaregion	Natürliche Pflanzendecke/Vegetation
Mittelmeerraum		
Sahara		
Sudan		
Kongobecken		

**7. Wo und warum entstand die Sahelzone in Afrika? Warum kommt es hier immer öfter zu Hungersnöten? /5 P.**

/5 P.

.....  
 .....  
 .....  
 .....  
 .....  
 .....  
 .....  
 .....  
 .....



Markiere auf der Kartenskizze die Gebiete, die am stärksten von Hungersnöten betroffen sind!





## Arbeitsblatt 1

### Variante B

#### Afrika und Australien

1. Bestimme mit Hilfe deines Atlas die Koordinaten der großen australischen Hafenstadt, Melbourne! /4 P.

Koordinaten:                    0 ..... Breite  
    0 ..... Länge

2. Berechne die Entfernung zwischen Melbourne und der Hauptstadt vom Staatenbund von Australien in Luftlinie! /3 P.

die Hauptstadt vom Staatenbund von Australien: .....  
die Entfernung der Städte in Luftlinie: .....

3. Lies auf der thematischen Karte Afrikas die folgenden Angaben ab: /4 P.

mittlere Januartemperatur von Kairo: .....  
mittlere Julitemperatur von Kairo: .....  
jährliche Niederschlagsmenge von Kairo: .....

Kreise den Temperaturwert des Sommermonates ein!

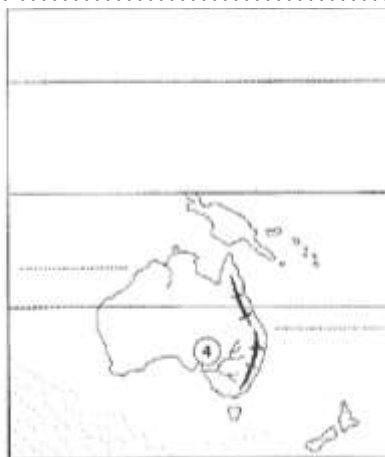
**Zu den folgenden Aufgaben darfst du keinen Atlas benutzen!**

4. Welche Ozeane umgeben die Kontinente? Schreibe den Namen der Ozeane auf die Punktlinie auf der Kartenskizze! /17 P.

Markiere auf der Kartenskizze den Suezkanal!

Wofür stehen die Zahlen auf der Kartenskizze? Schreibe deren Namen auf die Punktlinie!

1. .... 2. ....  
3. .... 4. ....



Trage ins Kästchen hinter den Feststellungen die Nummer der entsprechenden Landschaften ein!

1. Es ist ein Becken, das mit den herumliegenden Schollengebirgen zusammen entstand:
2. Das ist ein Becken mit einer Stufenlandschaft. Es ist mit Regenwäldern bedeckt.
3. Es ist eine mit Schollengebirgen gegliederte Landschaft mit reicher Pflanzen- und Tierwelt.
4. Es wurde durch Flüsse aus den herumliegenden Gebirgen aufgefüllt.

Schreibe die folgenden geographischen Namen auf der Kartenskizze ein: Madagaskar, Großes Australisches Scheidegebirge!

Markiere auf der Kartenskizze die Flüsse Sambesi und Nil mit ihren Anfangsbuchstaben!

5. Welche Klimazone erstreckt sich zwischen dem Wendekreis des Krebses und dem Wendekreis des Steinbocks? /5 P.

Welche Klimaregionen entstanden innerhalb dieser Klimazone?

Der herrschende Wind dieser Klimazone heißt:.....

6. Wie ist das Klima in den folgenden Landschaften? Wie ist die natürliche Pflanzendecke/Vegetation hier? Ergänze die Tabelle! /8 P.

Name der Landschaft	Klimaregion	Natürliche Pflanzendecke/Vegetation
Küstengebiet am Golf von Guinea		
Ostafrika		
Sahara		
westliches Küstengebiet Südafrikas		

7. Beantworte die folgenden Fragen! / 5 P.

Welches Land ist das entwickelteste Land Afrikas?

Markiere dieses Land auf der Kartenskizze!

Zähle drei Industriezweige dessen Landes auf, in denen dieses Land eine bedeutende Rolle in der Weltwirtschaft spielt!

.....  
.....  
.....  
.....  
.....  
.....  
.....  
.....  
.....



8. Zähle drei Produkte auf, mit denen die Länder von Ozeanien an der Weltwirtschaft teilnehmen! /4 P.

Benenne eine Insel oder eine Inselgruppe aus Ozeanien!

Insgesamt: ...../50 P.



Test 2

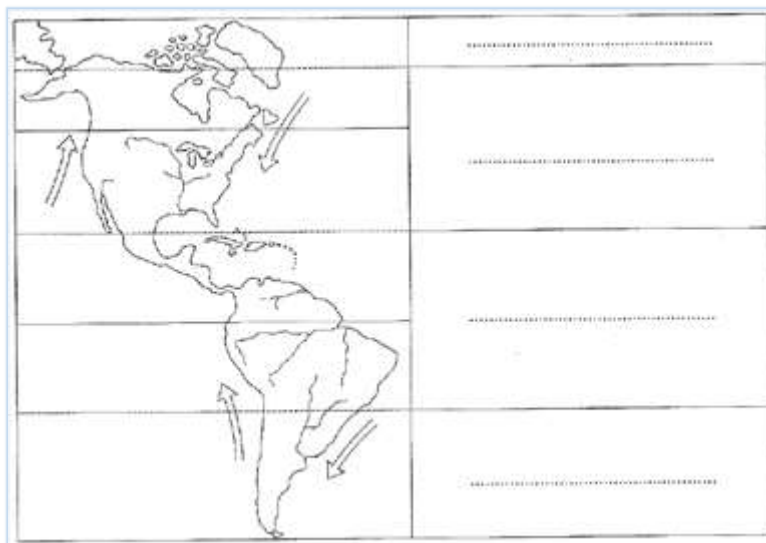
Variante A

Amerika

1. Bestimme mit Hilfe deines Atlas die Koordinaten der Stadt New Orleans, die an der Mündung des Flusses Mississippi liegt! /4 P.

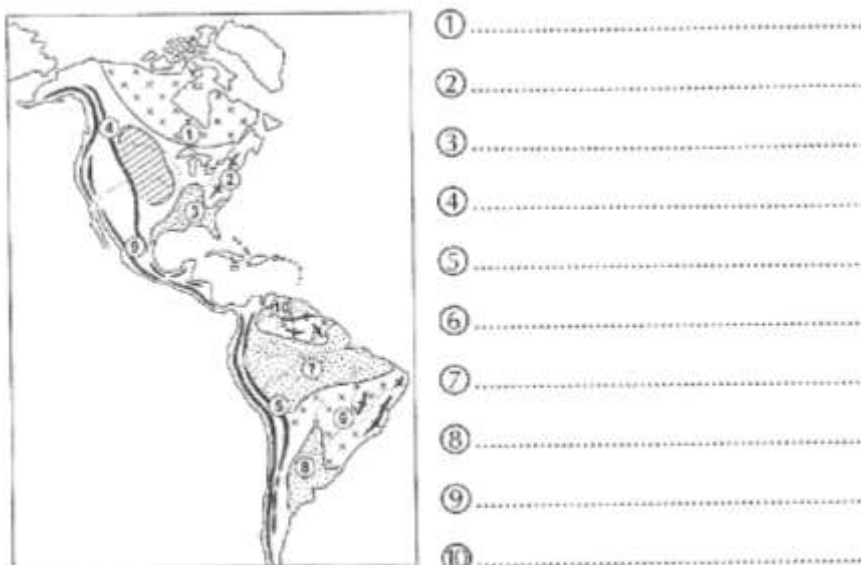
Koordinaten: .....<sup>0</sup> ..... Breite  
.....<sup>0</sup> ..... Länge

2. Schreib auf die Punktlinie auf der Kartenskizze den Namen der Klimazonen! Wie heißen die Meeresströmungen? Wie heißen die Breitenkreise? / 12 P.



Zu den folgenden Aufgaben darfst du keinen Atlas benutzen!

3. Welche Landschaften markieren die Zahlen auf der Kartenskizze? Schreibe den Namen der Landschaften auf die Punktlinie! /12 P.



Zähle die Nummern der Schilde auf der Punktlinie auf! .....

**4. Wo entstehen die großen Flusswassersysteme?**

**/2 P.**

Welcher Fluss hat das größte Einzugsgebiet in Südamerika?

**5. Wer sind die Ureinwohner Amerikas?**

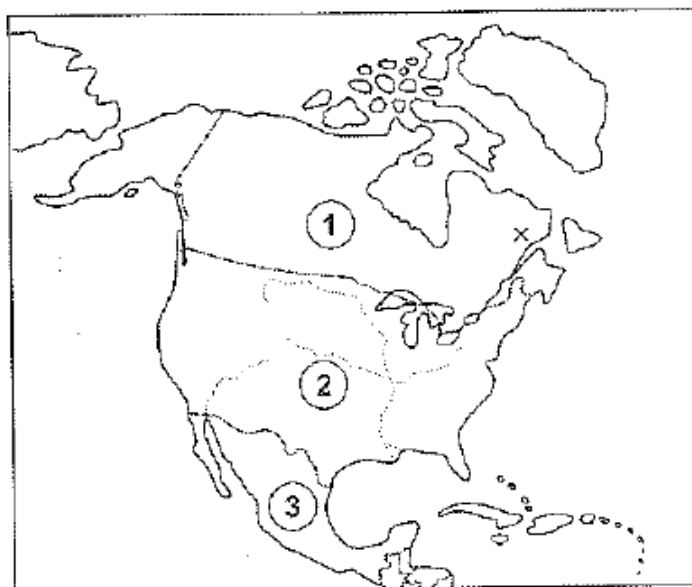
**/4 P.**

Nach wem wurde Amerika benannt?

Woher kamen die meisten Einwanderer nach Amerika?

**6. Wie heißen die Länder und ihre Hauptstädte Nordamerikas? Wie ist die Amtssprache in diesen Ländern? Ergänze die Tabelle!**

**/10 P.**



Land	Hauptstadt	Amtssprache
1.		
2.		
3.		

**7. Was ist für die Wirtschaft von den USA charakteristisch? Ergänze die Sätze!**

**/5 P.**

Die USA sind die .....Großmacht der Weltwirtschaft. Ihre multinationalen Firmen .....die Produktion im Ausland. Die Ergebnisse der Forschung und .....setzen sie in der .....sofort ein. Die neuen Industriebranchen etablierte man .....

**8. Beantworte die Fragen!**

Welches Land exportiert das meiste Zeitungspapier in der Welt? .....

Welches Land erzeugt den meisten Strom in der Welt? .....

**Insgesamt: ...../51 P.**

### Extra Aufgabe

Wer kann auf der stummen Karte die meisten Länder und Städte nennen?



**Test 2**

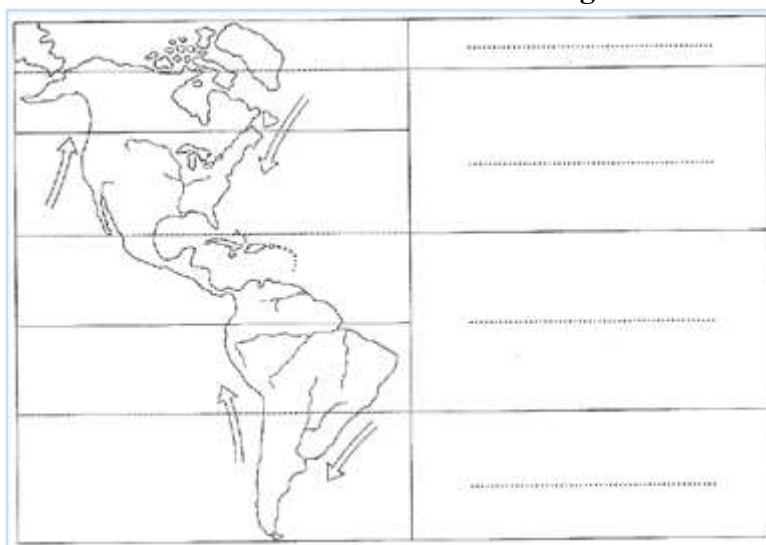
**Variante B**

**Amerika**

**1. Bestimme mit Hilfe deines Atlas die Koordinaten der Stadt Panama-Stadt, die am Panamakanal liegt!** /4 P.

Koordinaten: .....<sup>0</sup> ..... Breite  
 .....<sup>0</sup> ..... Länge

**2. Schreib auf die Punktlinie auf der Kartenskizze den Namen der Klimazonen! Wie heißen die warmen Meeresströmungen? Male die Pfeile der warmen Meeresströmungen rot aus!** / 6P.



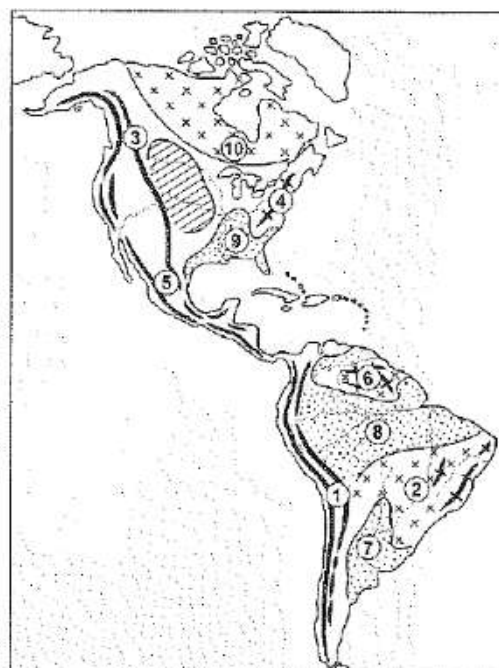
**Zu den folgenden Aufgaben darfst du keinen Atlas benutzen!**

**3. Welche Landschaften markieren die Zahlen auf der Kartenskizze? Schreibe den Namen der Landschaften auf die Punktlinie!** / 12 P.

- 1.....
- 2.....
- 3.....
- 4.....
- 5.....
- 6.....
- 7.....
- 8.....
- 9.....
- 10.....

Zähle die Nummern der Faltengebirge auf!

.....





**4. Beantworte die Fragen!**

/ 2 P.

Wie entstanden die Großen Seen in Nordamerika?

.....  
 .....

Wie heißt die Hauptwasserscheide in Südamerika?

.....  
 .....

**5. Beantworte die Fragen!**

/ 4 P.

Wer sind die Ureinwohner von Amerika?

.....  
 .....

Wer hat Amerika entdeckt?

.....  
 .....

Wen schleppte man nach Amerika ein?

.....  
 .....



**6. Wie heißen die mit Zahlen versehenen Länder und deren Hauptstädte? Welche ist die Amtssprache in diesen Ländern? Ergänze die Tabelle!**

/ 10 P.

Land	Hauptstadt	Amtssprache des Landes

So nennt man Mexiko und die Länder von Südamerika mit einem Begriff: .....

**7. Ergänze die Sätze!**

/ 5 P.

Was ist charakteristisch für die Wirtschaft der USA heutzutage?

Ab den 1980er Jahren wurde .....der wichtigste Zweig der Wirtschaft. Man setzt die Ergebnisse der ..... und Entwicklung ein. Das Land hat noch große Einnahmen aus ..... und .....

**8. Beantworte die Fragen!**

/ 2 P.

Aus welchem Land kommt der meiste Kaffee auf dem Weltmarkt? .....

In welchem Land baut man den meisten Mais an? .....

**Insgesamt: ...../51 P.**



### Extra Aufgabe

Wer kann auf der stummen Karte die meisten Länder und Städte nennen?



## Arbeitsblatt 2

### Variante A

### Amerika

#### 1. Welche Halbinsel hat folgende Koordinaten? Sieh in deinem Atlas nach!

/7 P.

Koordinaten:  $20^{\circ}$  nördlicher Breite,  $90^{\circ}$  westlicher Länge,

Halbinsel: .....

Lies die folgenden Angaben in der thematischen Karte ab!

mittlere Januartemperatur: .....

mittlere Julitemperatur: .....

jährliche Niederschlagsmenge: .....

Stelle nach diesen Angaben fest, in welcher Klimazone und Klimaregion sie liegt! Wie ist hier die natürliche Pflanzendecke/Vegetation?

Klimazone: .....

Klimaregion: .....

Natürliche Pflanzendecke/Vegetation: .....

#### Zu den folgenden Aufgaben darfst du keinen Atlas benutzen!

#### 2. Löse die Aufgaben!

/12 P.

Schreibe auf der Kartenskizze die folgenden geographischen Namen ein: Golf von Mexiko und Alaska-Halbinsel!

Welche Landschaften markieren die Zahlen auf der Kartenskizze?

1. ....

2. ....

3. ....

4. ....

5. ....

Welche Oberflächenformungskraft formte die Oberfläche der Landschaft 1 um?

Wie entstand das Gebirge 4?

Markiere auf der Kartenskizze den Fluss Amazonas!



#### 3. Lies den folgenden Zeitungsartikel und beantworte die Fragen!

/6 P.

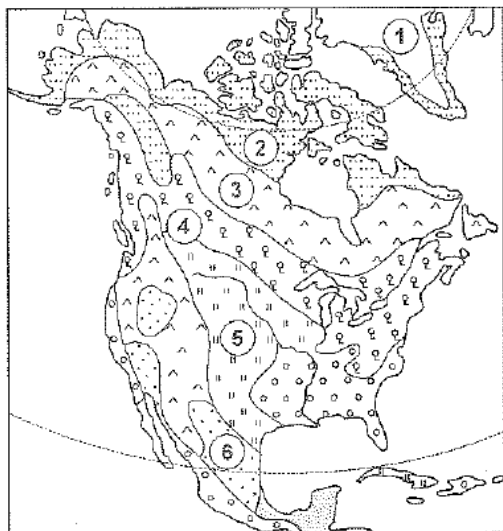
„Ein tropischer Wirbelsturm mit einer Geschwindigkeit von mehr als 400km/h wütete am Golf von Mexiko. Er verursachte heftiges Unwetter, Überflutungen. Der verheerende Wind zerstörte Häuser, entwurzelte Bäume, viele Häuser stürzten ein.“

Wie hoch war die Geschwindigkeit des Windes? .....

Wo wütete der Wirbelsturm? .....

Welche Schäden richtete der Wirbelsturm an? .....

Wie heißt dieser tropische Wirbelsturm?.....



**4. Schreibe auf die Punktlinie die natürliche Pflanzendecke!** /6 P.

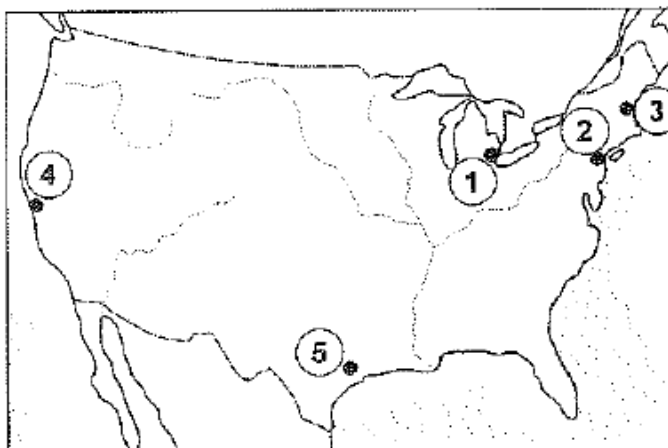
- 1.....
- 2.....
- 3.....
- 4.....
- 5.....
- 6.....

**5. Was ist für das Gewerbe der USA charakteristisch? Ergänze die Sätze!** /6 P.

Die traditionellen Zentren der Industrie der USA sind .....und.....  
 Seit den 1980-er Jahren begann die .....der Industrie. Außer den traditionellen Industriezweigen etablierte man neue Industriezweige. Heutzutage hat das Land aus .....und..... große Einkommen.

**6. Welche Städte markieren die Zahlen auf der Kartenskizze?** /12 P.

- 1.....
- 2.....
- 3.....
- 4.....
- 5.....



**Schreibe die Nummer der Städte ins Kästchen nach den Ausstellungen ein!**

1. Sie ist für den Fahrzeugbau berühmt, der Autohersteller Ford hat hier seinen Sitz.
2. Sie ist das Zentrum der Raumforschung.
3. Das ist eine große Industrie- und Hafenstadt an der Pazifikküste.
4. Das ist das größte Handels- und Finanzzentrum der Welt und zugleich die größte Stadt der USA.
5. Ihr Agglomerationsgürtel ist für die Produktion der Computer, Elektrowaren und Anlagen der Atomkraftwerke charakteristisch.

In welcher Industrieregion befindet sich die entwickeltste Computerindustrie in den USA?

Markiere diese Industrieregion auf der Kartenskizze!

**7. Was versteht man unter dem Begriff Steueroase?** /2 P.

- .....
- .....
- .....
- .....

**8. Beantworte die folgenden Fragen!**

**/4 P.**

1. Welches Land exportiert der meiste Getreide auf dem Kontinent?

Land: ..... deren Hauptstadt:.....

2. Welches Land baut die meisten Kaffeebohnen an?

Land: ..... deren Hauptstadt:.....

**9. Welches Gebiet erkennst du an der folgenden Beschreibung?**

**/5 P.**

Das Festland besteht aus weit ausgedehnten Hochebenen, die von einer Eismasse von 3000-4000m bedeckt sind. Hier maß man am 21. Juli 1983 die Tiefsttemperatur der Erde. Große Eisblöcke brechen von dieser Eismasse in die Meere ab.

Name des Gebietes: .....

In welcher Klimazone liegt es? .....

Was ist für diese Klimaregion charakteristisch? .....

.....

.....

.....

.....

.....

.....

In welcher Jahreszeit hat man die Tiefsttemperatur gemessen?

.....

**Insgesamt: ...../51 P.**

## Arbeitsblatt 2

### Variante B

### Amerika

**1. An der Mündung welches Flusses liegt die Stadt mit den folgenden Koordinaten? Sieh in deinem Atlas nach!** /7 P.

Koordinaten:  $0^{\circ}$ ,  $50^{\circ}$  westlicher Länge,

Fluss: .....

Lies die folgenden Angaben in der thematischen Karte ab!

mittlere Januartemperatur: .....

mittlere Julitemperatur: .....

jährliche Niederschlagsmenge: .....

Stelle nach diesen Angaben fest, in welcher Klimazone und Klimaregion sie liegt! Wie ist hier die natürliche Pflanzendecke/Vegetation?

Klimazone: .....

Klimaregion: .....

Natürliche Pflanzendecke/Vegetation: .....

**Zu den folgenden Aufgaben darfst du keinen Atlas benutzen!**

**2. Löse die Aufgaben!**

/12 P.

Schreibe auf der Kartenskizze die folgenden geographischen Namen ein: Halbinsel Kalifornien, Westindische Inseln!

Welche Landschaften markieren die Zahlen auf der Kartenskizze?

- 1.....
- 2.....
- 3.....
- 4.....
- 5.....

Welche Oberflächenformungskraft formte die Oberfläche der Landschaft 1 um?

Wie entstand das Gebirge 4?

Was beweist, dass das Gebiet auch noch heute in Bewegung ist?

Markiere auf der Kartenskizze den Fluss Mississippi!

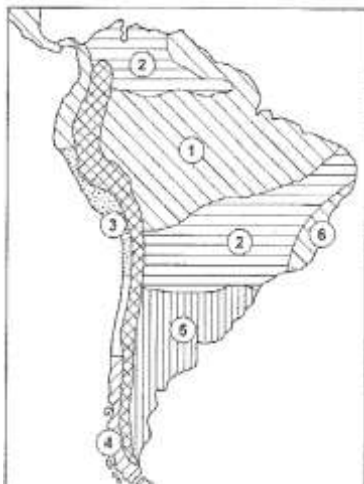


**3. Lies den folgenden Zeitungsartikel und beantworte die Fragen!**

**/6 P.**

„Ein Wirbelsturm mit einer Geschwindigkeit von mehr als 300km/h wütete am 10. November 2002 im mittleren und südlichen Teil der USA. Der verheerende Wind hob Hausdächer und Autos in die Höhe, zerstörte Häuser, entwurzelte Bäume.“

- Wie hoch war die Geschwindigkeit des Windes? .....
- Wo wütete der Wirbelsturm? .....
- Welche Schäden richtete der Wirbelsturm an? .....
- Wie heißt dieser Wirbelsturm?.....



**4. Schreibe auf die Punktlinie die natürliche Pflanzendecke!**

**/6 P.**

- 1.....
- 2.....
- 3.....
- 4.....
- 5.....
- 6.....

**5. Was ist für das Gewerbe der USA charakteristisch? Ergänze die Sätze!**

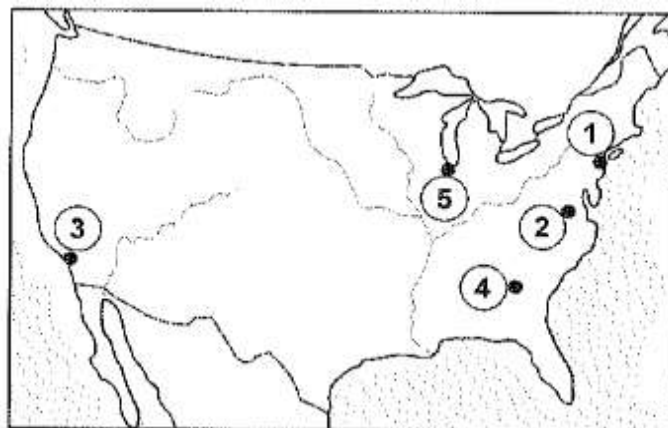
**/6 P.**

Die USA sind die .....Großmacht der Weltwirtschaft. Obwohl die Produktion ihrer Industrie in der Welt .....ist, stammt mehr als die Hälfte vom BSP aus ..... Ihre Großunternehmen organisieren die Produktion auf der ganzen Welt. Die USA besorgen die Mehrheit der Rohstoffe aus dem ....., oder lassen .....Arbeitskräfte arbeiten. Es ist üblich geworden, dass die USA die Ergebnisse der .....und Entwicklung anwendet.

**6. Welche Städte markieren die Zahlen auf der Kartenskizze?**

**/12 P.**

- 1.....
- 2.....
- 3.....
- 4.....
- 5.....



**Schreibe die Nummer der Städte ins Kästchen nach den Ausstellungen ein!**

- 1. Sie ist die bevölkerungsreichste Stadt der Vereinigten Staaten sowie der Sitz der Vereinten Nationen.
- 2. Sie ist die Hauptstadt der USA.
- 3. Das ist eine große Industrie- und Hafenstadt an den Großen Seen.
- 4. Das ist eine große Industrie- und Hafenstadt am Pazifik.
- 5. Das ist ein Handels- und Finanzzentrum und sie ist für ihr Flugzeugbau bekannt.

Welche Stadt ist das Zentrum der Raumforschung?

.....  
 Markiere diese Stadt auf der Kartenskizze!

**7. Welche Staaten nennt man „Bananenrepubliken“? Warum? /2 P.**

.....  
.....  
.....  
.....  
.....

**8. Beantworte die folgenden Fragen! / 4 P.**

In welchem Land wird das meiste Zeitungspapier hergestellt?

Land: ..... Hauptstadt: .....

Welches Land ist der größte Rindfleisch- und Wolleexporteur Südamerikas?

Land: ..... Hauptstadt: .....

**9. Welche Region kannst du auf Grund der folgenden Beschreibung erkennen? / 5 P.**

Es wurde nach dem Polarstern benannt. Es befindet sich über dem Nordpolarmeer, unter ihm gibt es kein Festland. Das Nordpolarmeer ist mit einem Eispanzer von einigen Metern bedeckt, der im Sommer zerstückelt wird. Riesengroße Eisstücke brechen sich von Grönland ab, die mit den Eisbergen durch die Meeresströmungen in den Süden driften, wo sie die Sicherheit der Schifffahrt gefährden.

Name der Region: .....

In welcher Klimazone liegt es? .....

Was ist der Grund der Entstehung dieser Klimaregion?

.....  
.....

Was gefährdet die Sicherheit der Schifffahrt?

.....

**Insgesamt: ...../60 P.**



**Test 3**

**Variante A**

**Asien**

**1. Welche Stadt hat die folgenden Koordinaten? /3 P.**

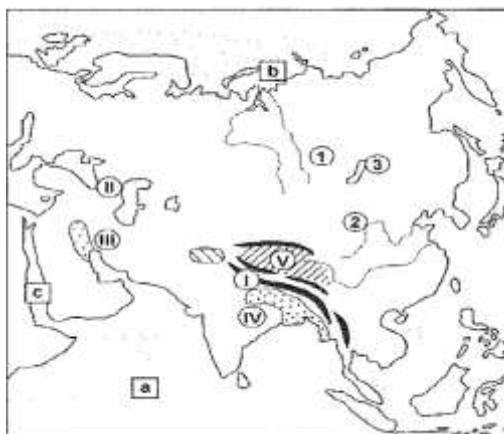
40° nördlicher Breite, 50° östlicher Länge      Stadt: .....

Berechne die Entfernung zwischen dieser Stadt und der Meerenge Bosphorus! ..... km

**Zu den folgenden Aufgaben darfst du keinen Atlas benutzen!**

**2. Wofür stehen die Buchstaben und die Zahlen auf der Kartenskizze? /11 P.**

- a, ..... Ozean
- b, ..... see
- c, ..... Meer
- I ..... (Gebirge)
- II ..... (Gebirge)
- III ..... (Tiefebene)
- IV ..... ebene
- V ..... (Hochland)
- 1 ..... (Fluss)
- 2 ..... (Fluss)
- 3 ..... see



**3. Beantworte die Fragen! /3 P.**

Zu welchem Gebirgssystem gehört der Himalaja?

Wie heißt sein höchster Gipfel?

Wie hoch ist dieser Gipfel?

**4. Zähle die Klimazonen Asiens auf! / 3 P.**

**5. Was ist charakteristisch für das Klima Zentralasiens/Mittelasiens? / 6 P.**

Der Winter: .....

Der Sommer: .....

Der Niederschlag: .....

Das Klima Zentralasiens/Mittelasiens: .....

Ursache der Entstehung dieses Klimas: .....

a, ..... b, .....

**6. Unterzeichne die Kulturpflanzen, die man auf den Gebieten mit tropischem Monsunklima anbaut! / 4 P.**

*Zuckerrohr, Baumwolle, Kautschukbaum, Reis, Weizen, Kaffeebohnen, Jute, Dattelpalme, Soja*



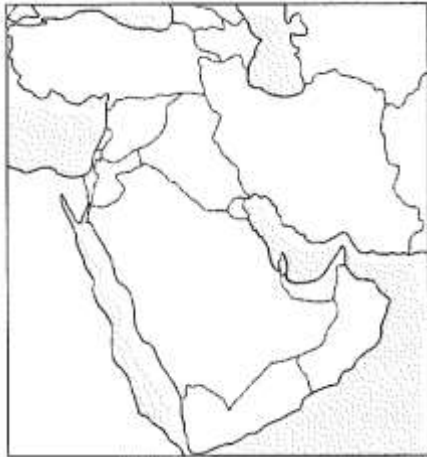
**7. Schreibe auf die Punktlinie die Antwort!**

**/ 7 P.**

- Das ist das entwickeltste Land Asiens: .....
- Die Hauptstadt dieses Landes ist: .....
- Das ist das bevölkerungsreichste Land der Erde: .....
- Die Hauptstadt dieses Landes ist: .....
- Die größte Hafenstadt der Erde nach Container-Umschlagvolumen ist: .....
- Hier befindet sich der größte Rindbestand der Erde: .....
- Die Hauptstadt dieses Landes ist: .....

**8. Markiere auf der Kartenskizze den wichtigsten Energieträger Südwestasiens!**

**/ 8 P.**



- Nenne zwei Länder, die zu den größten Erdölförderländern weltweit gehören! .....
- Wohin liefert man diesen Energieträger? .....
- Wie liefert man diesen Energieträger? .....
- Auf welcher Strecke liefert man diesen Energieträger? .....
- Warum? .....

**Insgesamt: ...../ 45 P.**

**Test 3**

**Variante B**

**Asien**

**1. Welche Stadt hat die folgenden Koordinaten? /3 P.**

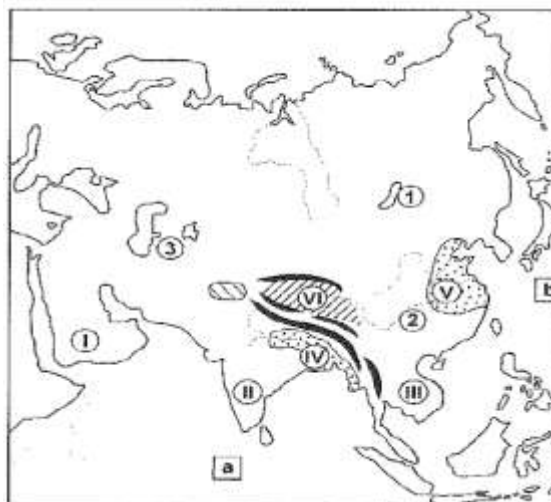
35° nördlicher Breite, 140° östlicher Länge      Stadt: .....

Berechne die Entfernung zwischen dieser Stadt und Peking! ..... km

**Zu den folgenden Aufgaben darfst du keinen Atlas benutzen!**

**2. Wofür stehen die Buchstaben und die Zahlen auf der Kartenskizze? /11 P.**

- a, ..... Ozean
- b, ..... Ozean
- I, ..... Halbinsel
- II, .....
- III, ..... Halbinsel
- IV, ..... ebene
- V, ..... Tiefland
- VI, ..... (Hochland)
- 1, ..... see
- 2, ..... (Fluss)
- 3, ..... Meer



**3. Beantworte die Fragen! / 3 P.**

Zu welchem Gebirgssystem gehören die Gebirge an der Meeresküste Ostasiens?

Wie heißt der höchste Gipfel der Erde?

Seine Höhe: .....

**4. Welche Klimazonen befinden sich in Asien? / 3 P.**

**5. Was ist für das tropische Monsunklima charakteristisch? / 6 P.**

Wie viele Jahreszeiten gibt es hier?

Was ist charakteristisch für diese Jahreszeiten?

Der Niederschlag fällt ....., deshalb haben die Flüsse Indiens Hochwasser.....

**6. Unterstreiche die Kulturpflanzen, die man im tropischen Monsungebiet anbaut! / 4 P.**

*Kautschukbaum – Dattelpalme – Reis – Zuckerrohr – Mais – Weizen – Jute – Soja – Haselnuss*

**7. Schreib auf die Punktlinie nach den Feststellungen den Namen des entsprechenden Landes und dessen Hauptstadt!** / 7 P.

Das ist das zweitbevölkerungsreichste Land der Erde: .....

Die Hauptstadt dieses Landes ist: .....

Das ist das wichtigste finanzielle Zentrum Asiens:.....

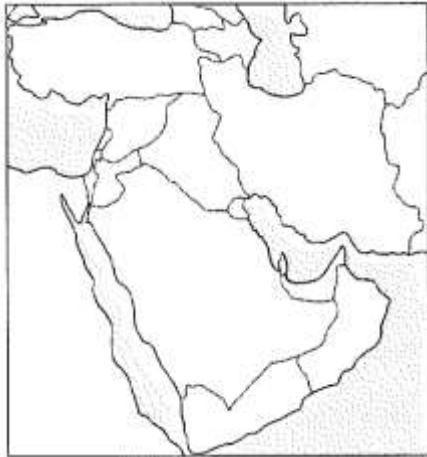
Das ist das bevölkerungsreichste Land der islamischen Welt: .....

Die Hauptstadt dieses Landes ist: .....

Das ist das entwickeltteste Industrieland Asiens: .....

Die Hauptstadt dieses Landes ist: .....

**8. Was baut man in Südwestasien ab! Markiere diese auf der Kartenskizze!** / 8 P.



Nenne zwei Länder, die zu den größten Förderungsländern gehören!

Welche Länder kaufen diese Energieträger? .....

Wie liefert man diese Energieträger in diese Länder? .....

Auf welcher Strecke liefert man diese Energieträger? .....

Warum? .....

**Insgesamt: ...../ 45 P.**

### Arbeitsblatt 3

#### Variante A

#### Asien

#### 1. Welche Stadt hat die folgenden Koordinaten?

/7 P.

7° nördlicher Breite, 80° östlicher Länge

Stadt: .....

Auf welcher Insel befindet sich diese Stadt?

Insel: .....

Lies auf der thematischen Karte Asiens die folgenden Angaben dieser Stadt ab!

mittlere Januar­temperatur: .....

mittlere Julitemperatur: .....

jährliche Niederschlagsmenge: .....

Stelle nach diesen Angaben fest, in welcher Klimazone und Klimaregion sie liegt!

Klimazone: .....

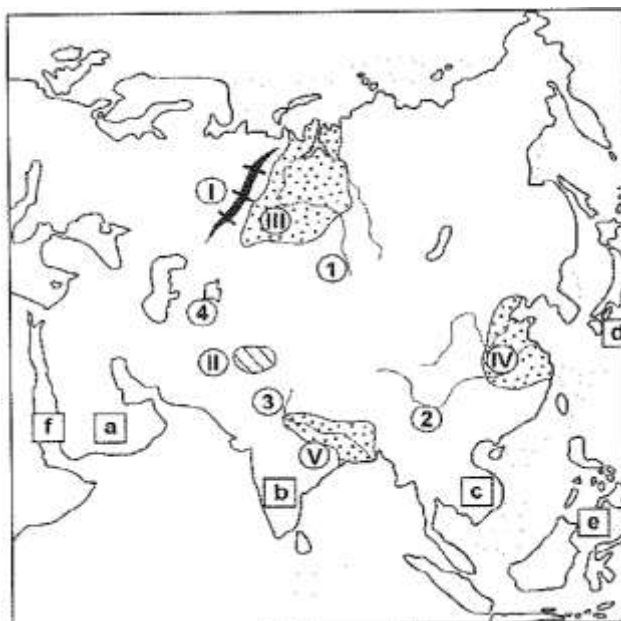
Klimaregion: .....

#### Zu den folgenden Aufgaben darfst du keinen Atlas benutzen!

#### 2. Wofür stehen die Zahlen und Buchstaben auf der Kartenskizze Asiens?

/15 P.

- a, ..... Halbinsel
- b, ..... Halbinsel
- c, ..... Halbinsel
- d, ..... Inseln
- e, ..... Inseln
- f, ..... Meer
- I, ..... gebirge
- II. Hochland von .....
- III. .... Tiefland
- IV. .... Tiefebene
- V. .... ebene
- 1. .... (Fluss)
- 2. .... (Fluss)
- 3. .... (Fluss)
- 4. .... (See)



#### 3. Trage die Zahlen richtig ein!

/6 P.

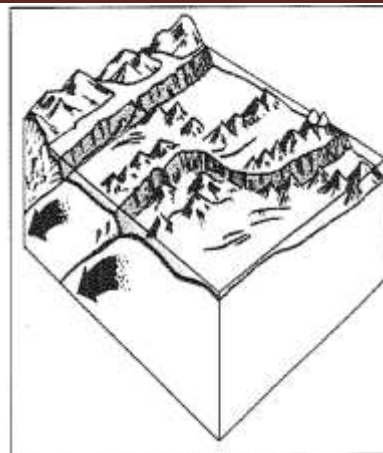
1. Arabische Halbinsel, 2. Uralgebirge, 3. Himalaja, 4. Chinesische Tiefebene, 5. Gebirge Japans, 6. Südchinesisches Gebirge

Tiefebene	Faltengebirge	Schollengebirge	Schild

**4. Beantworte die Fragen!**

/3 P.

Warum baut man in Japan Erdgeschoss Häuser aus Holz- oder Stahlbetonkonstruktion? Erkläre mit Hilfe der Abbildung die Ursache des Phänomens!



.....  
 .....  
 .....

Was kommt in dieser Region noch häufig vor?

.....  
 .....

**5. Ergänze die Sätze!**

/ 5 P.

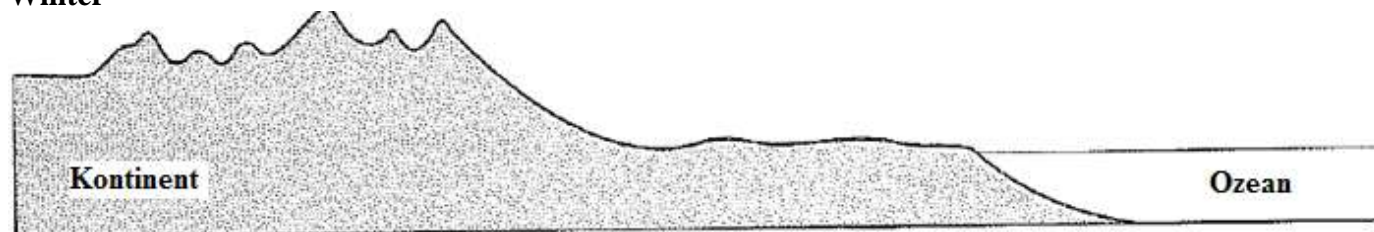
Die Becken von Zentralasien liegen von den Ozeanen ....., die Gebirgszüge ..... diese Becken. Hier ist der Winter ....., der Sommer ist ....., es gibt ..... Niederschlag.

**6. Ergänze die Abbildungen und beantworte die Frage!**

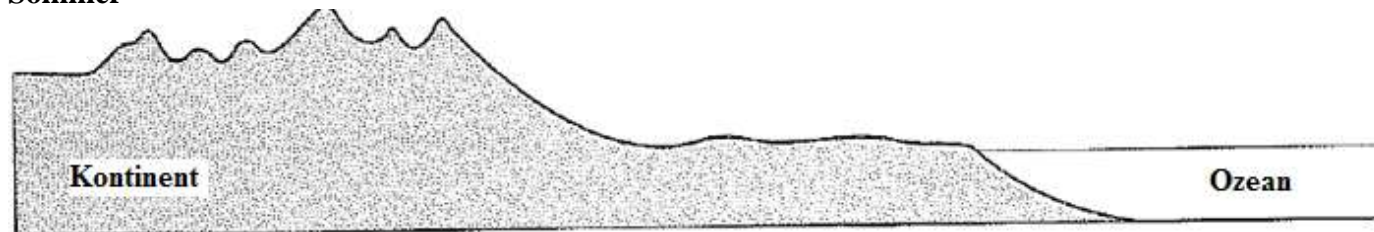
/ 4 P.

Die Abbildung stellt die Entstehung des Monsunklimas der gemäßigten Zone dar. Markiere mit Pfeilen die Richtung des Sommermonsuns bzw. des Wintermonsuns! Zeichne Wolken, wo es der meiste Niederschlag fällt!

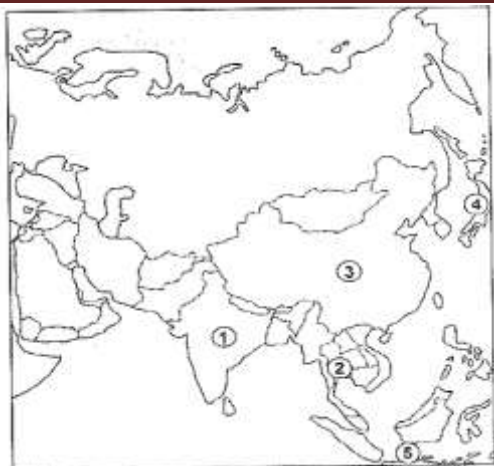
**Winter**



**Sommer**



Wie ist hier die natürliche Pflanzendecke/Vegetation? .....



**7. Benenne die Länder und ihre Hauptstädte!**

**/ 15 P.**

Land	Hauptstadt
1. ....	.....
2. ....	.....
3. ....	.....
4. ....	.....
5. ....	.....

Für welche Länder sind die folgenden Feststellungen charakteristisch? Trage die Nummer der Länder ins Kästchen nach den Feststellungen ein!

- 1. Die Produkte dieses Landes sind auf Weltniveau (Industrieroboter, Computer, Elektrogeräte, Fernmeldegeräte, Autos) und weltweit erhältlich.
- 2. Der größte Reisexporteur der Welt, seine Hauptstadt ist ein wichtiges Zentrum des Welttourismus.
- 3. Das ist das zweitbevölkerungsreichste Land der Welt.
- 4. Das ist das bevölkerungsreichste islamische Land der Welt.
- 5. Das ist das drittgrößte Land der Welt, seine Staatsform ist Volksrepublik.

**8. Beantworte die folgenden Fragen!**

**/ 5 P.**

Zähle zwei Schwellenländer aus Ost- und Südostasien auf! Welche Industriezweige dieser Länder sind weltweit bedeutend? Zähle drei davon auf!

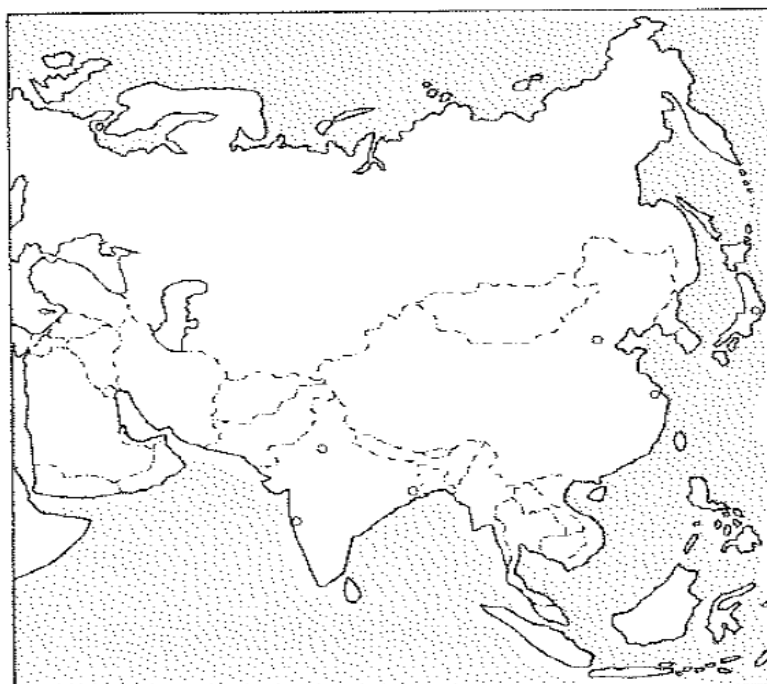
Zwei Schwellenländer: .....

Ihre weltweit bedeutende Industriezweige: .....

**Insgesamt: ...../ 60 P.**

**Extra Aufgabe**

**Wer kann mehr Länder und Städte auf der Kartenskizze Asiens benennen?**





**Arbeitsblatt 3**

**Variante B**

**Asien**

**1. Welche Stadt hat die folgenden Koordinaten?**

**/7 P.**

38° nördlicher Breite, 127° östlicher Länge

Stadt: .....

Auf welcher Halbinsel befindet sich diese Stadt?

Insel: .....

Lies auf der thematischen Karte Asiens die folgenden Angaben dieser Stadt ab!

mittlere Januartemperatur: .....

mittlere Julitemperatur: .....

jährliche Niederschlagsmenge: .....

Stelle nach diesen Angaben fest, in welcher Klimazone und Klimaregion sie liegt!

Klimazone: .....

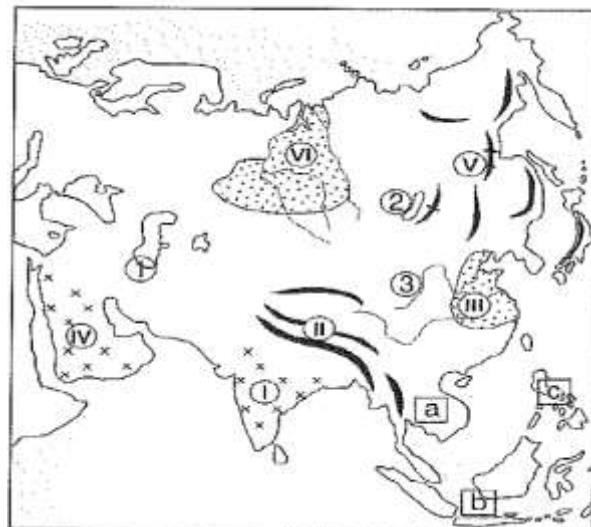
Klimaregion: .....

**Zu den folgenden Aufgaben darfst du keinen Atlas benutzen!**

**2. Wofür stehen die Zahlen und Buchstaben auf der Kartenskizze Asiens?**

**/12 P.**

- I. Hochland .....
- II.....(Gebirge)
- III..... Tiefebene
- IV..... Halbinsel
- V..... Gebirgssystem
- VI..... Tiefland
- a, ..... Halbinsel
- b, ..... Inselwelt
- c, ..... Inseln
- 1. .... Meer
- 2. .... see
- 3. ....(Fluss)



**3. Trage die Zahlen richtig ein!**

**/6 P.**

- 1. Hochland von Dekkan, 2. Himalaja, 3. Chinesische Tiefebene 4. Arabische Halbinsel,
- 5. Gebirge Ostasiens 6. Westsibirisches Tiefland

Tiefebene	Faltengebirge	Schollengebirge	Schild

**4. Beantworte die Fragen!**

**/ 3 P.**

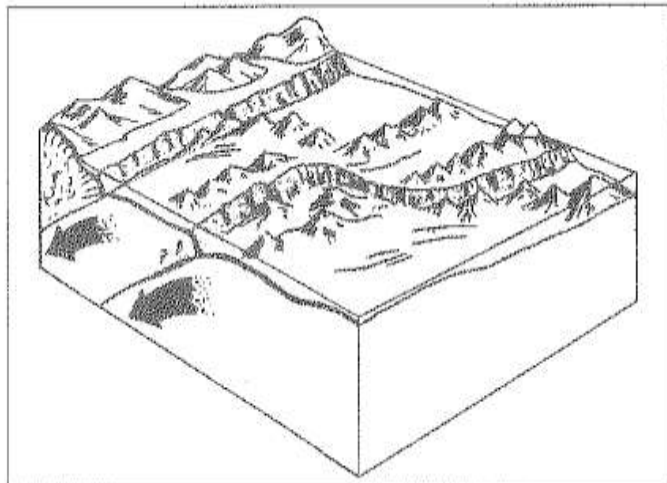
Der Marianengraben entstand vor der Küstenlinie Ostasiens im Pazifischen Ozean.

Was ist die Ursache der Entstehung des Tiefseegrabens?

.....  
.....  
.....

Welche Folgen hatte noch dieser Vorgang?

.....  
.....



**5. Ergänze die Sätze!**

**/ 5 P.**

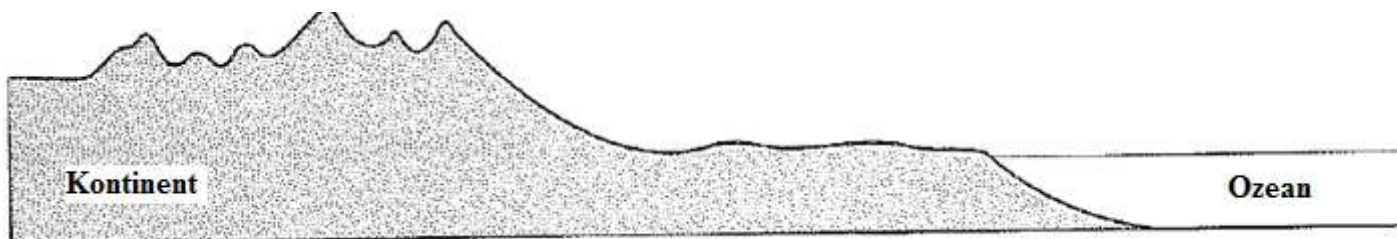
In Mittelasien/Zentralasien sind die Winter ....., die Sommer sind ....., die Temperaturschwankung ist ..... Es gibt hier ..... Niederschlag. Zentralasien/Mittelasien hat ..... Klima.

**6. Ergänze die Abbildung!**

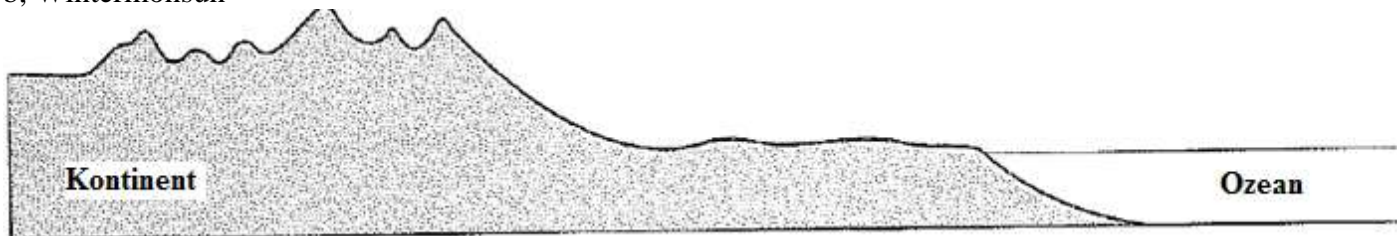
**/ 4 P.**

Die Abbildung stellt die Entstehung des tropischen Monsunklimas dar. Markiere mit Pfeilen die Windrichtung im Sommer bzw. im Winter. Zeichne Wolken, wo es der meiste Niederschlag fällt!

a, Sommermonsun

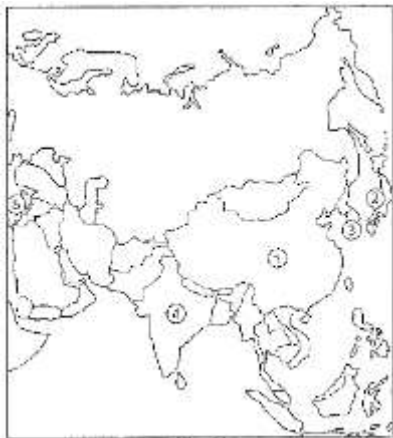


b, Wintermonsun



Die natürliche Pflanzendecke der tropischen Monsungebiete ist .....





**7. Benenne die Länder und ihre Hauptstädte!**

**/ 15 P.**

Land	Hauptstadt
1. ....	.....
2. ....	.....
3. ....	.....
4. ....	.....
5. ....	.....

Für welche Länder sind die folgenden Feststellungen charakteristisch? Trage die Nummer der Länder ins Kästchen nach den Feststellungen ein!

- Es ist das bevölkerungsreichste Land der Erde.
- Es nimmt den ersten Platz bei der Herstellung von Fernsehern ein.
- Es ist industrielle Großmacht ohne Bodenschätze.
- Es verfügt über den größten Rinderbestand in der Welt.
- Es besorgt mit hochwertigen Produkten seiner Landwirtschaft und Industrie den Weltmarkt.

**8. Beantworte die Fragen!**

**/ 5 P.**

Nenne zwei arabische Staaten in Südwestasien!

.....

Was ist der wichtigste Energieträger Südwestasiens?

.....

Wofür verwenden die Staaten die Einnahmen, die durch den Verkauf dieses Energieträgers entsteht?

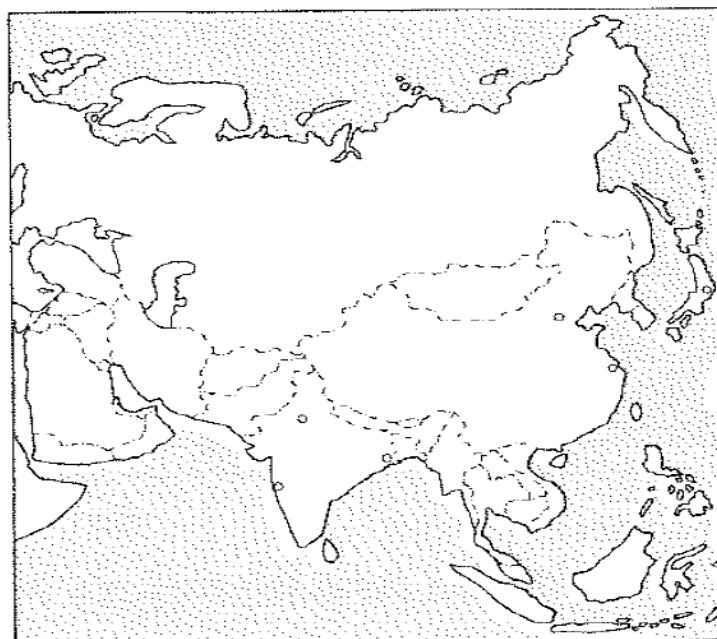
.....

.....

**Insgesamt: ...../ 60 P.**

**Extra Aufgabe**

**Wer kann mehr Länder und Städte auf der Kartenskizze Asiens benennen?**

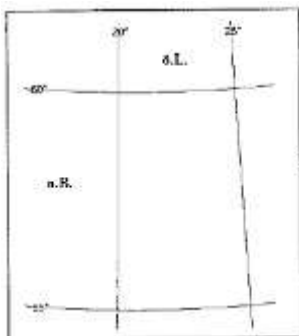


**Test 4**

**Variante A**

**Europa**

**1. Stelle mit Hilfe deines Atlas fest, die Hauptstadt welches nordeuropäischen Landes die Abbildung zeigt? / 5 P.**



Koordinaten: 60° n.B., 25° ö.L.

Land: ..... Hauptstadt: .....

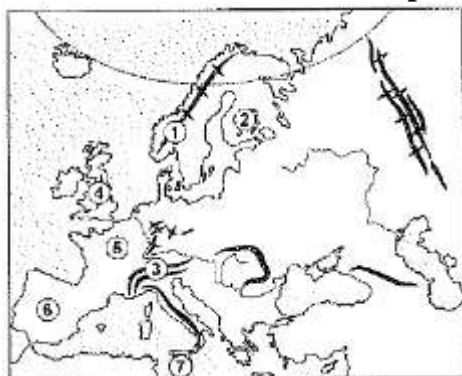
Wie heißt die Bucht, wo sie liegt? .....

An der südlichen Küste der Bucht liegt die Hauptstadt eines anderen Landes, die von dieser Hauptstadt etwa 100 km entfernt liegt.

Dieses Land heißt..... Seine Hauptstadt ist.....

**Zu den folgenden Aufgaben darfst du keinen Atlas benutzen!**

**2. Welche Landschaften Europas markieren die Zahlen? / 10 P.**



- 1. ....
- 2. ....
- 3. ....
- 4. ....(Gebirge)
- 5. ....Becken
- 6. ....Halbinsel
- 7. ....(Insel)

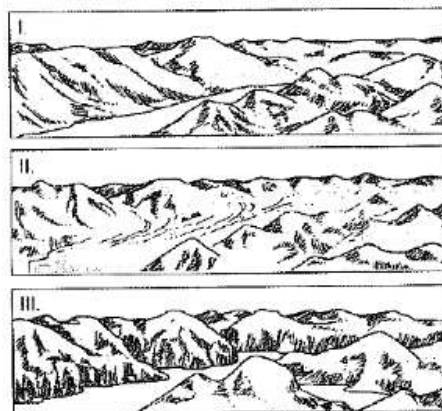
Unterstreiche den Namen der Faltengebirge!  
Kreise den Namen der Schollengebirge ein!

**3. Beantworte die Fragen! / 5 P.**

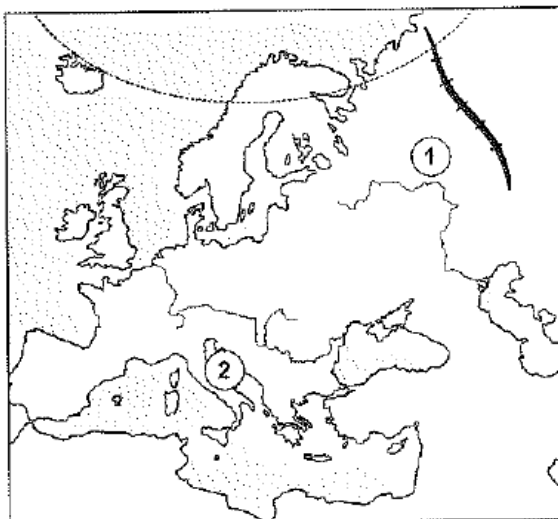
Die Entstehung welcher Naturerscheinung zeigt die Abbildung?

Wie entsteht diese Naturerscheinung?

Welchen wirtschaftlichen Nutzen hat sie?



**4. Was ist charakteristisch für die mit Nummern versehenen Klimaregionen und deren Landwirtschaft? / 16 P.**



- |                                 |                                 |
|---------------------------------|---------------------------------|
| 1. ....Ebene                    | 2. ....-Halbinsel               |
| Klimaregion: .....              | Klimaregion:.....               |
| Winter:.....                    | Winter:.....                    |
| Sommer: .....                   | Sommer:.....                    |
| Niederschlagsmenge: .....       | Niederschlagsmenge:.....        |
| Niederschlag fällt: .....       | Niederschlag fällt: .....       |
| Angebaute Kulturpflanzen: ..... | Angebaute Kulturpflanzen: ..... |
| .....                           | .....                           |
| Gezüchte Nutztiere: .....       | Gezüchtete Nutztiere: .....     |
| .....                           | .....                           |

**5. Wie heißen die Länder und ihre Hauptstädte? / 10 P.**



- |         | Land  | Hauptstadt |
|---------|-------|------------|
| 1. .... | ..... | .....      |
| 2. .... | ..... | .....      |
| 3. .... | ..... | .....      |
| 4. .... | ..... | .....      |
| 5. .... | ..... | .....      |

**6. Welches europäische Land kannst du nach der folgenden Beschreibung erkennen? / 4 P.**

Es ist eine führende industrielle Großmacht. Seine ehemaligen Industriezentren gingen wegen der Erschöpfung der Gruben zugrunde gegangen. Die Betriebe der alten Industriegebiete wurden stillgelegt. An ihrer Stelle hat man moderne Industriezweige wie Elektroindustrie und Fahrzeugbau etabliert.

Man gewinnt  $\frac{3}{4}$  des erzeugten Stroms aus Kernenergie. Man etablierte die neuen Industriezentren in den großen Hafenstädten und in der Nähe der Hauptstadt. Dieses Land kooperiert mit anderen Ländern beim Flugzeugbau. Es spielt eine große Rolle der Modeindustrie für Frauen. Es gilt als der größte Lebensmittelexporteur Europas.

Name des Landes: .....  
Ein Fluss fließt mitten durch die Hauptstadt. Name des Flusses: .....  
Auf seinem Gebiet befindet sich der höchste Gipfel der Alpen: .....  
Name des Gipfels:.....Höhe:.....

**Insgesamt: ...../ 50 P.**

### Extra Aufgabe

**Welches Land bzw. Stadt kannst du nach den folgenden Merkmalen erkennen?**

1. Es ist die Hauptstadt der Mode:.....
2. Seine Handelsflotte gehört zu den größten der Welt: .....
3. Es ist die Heimat der Tulpen und Windmühlen:.....
4. Es ist das Land des Eises und des Feuers: .....
5. Es ist das Land der Polartage: .....

### Arbeitsblatt 4

#### Variante A

#### Europa

**Zu dieser Aufgabe kannst du deinen Atlas benutzen.**

#### 1. Welche europäischen Städten haben die folgenden Koordinaten?

/ 4 P.

39° nördlicher Breite, 9° westlicher Länge : .....

51° nördlicher Breite, 0° : .....

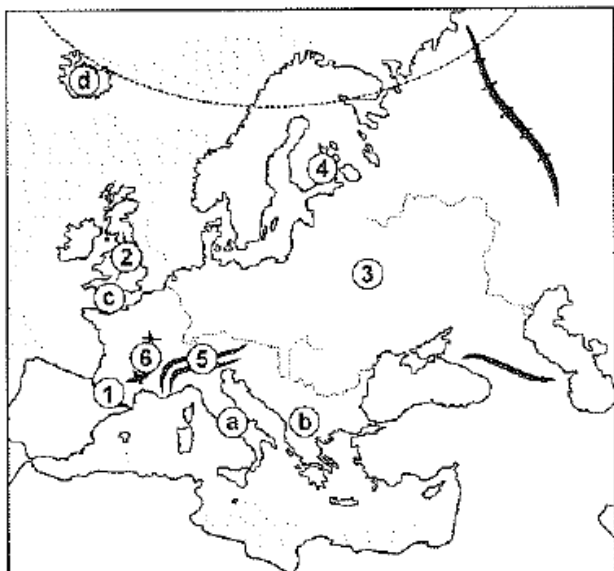
Berechne die Entfernung der obigen Städte in Luftlinie! .....

Lies die Strecke der Schifffahrt zwischen diesen zwei Städten ab! .....

**Zu den folgenden Aufgaben darfst du keinen Atlas benutzen!**

#### 2. Welche Landschaften Europas markieren die Zahlen?

/ 14 P.



- a, .....-Halbinsel
- b, ..... Halbinsel
- c, .....(Kanal)
- d, .....(Insel)
- 1. ....(Gebirge)
- 2. ....(Gebirge)
- 3. ....(Tiefebene)
- 4. ....(Seenplatte)
- 5. ....(Gebirge)
- 6. ....(Gebirge)

Markiere auf der Kartenskizze die Straße von Gibraltar!

Welche Oberflächenformungskraft formte die Oberfläche der Landschaft mit der Nummer 4 um?  
.....

Unterstreiche den Namen der Faltengebirge!

#### 3. Beantworte die Fragen!

/ 18 P.

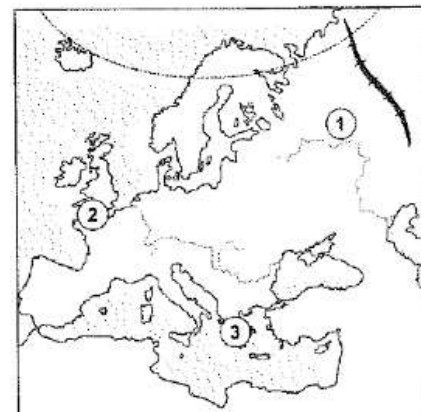
Welche Klimazonen gibt es in Europa?

.....  
.....  
.....

Schattiere auf der Kartenskizze die Grenzen der zwei Klimazonen!

Wie heißen die Klimaregionen auf der Kartenskizze?

1. ....  
2. ....  
3. ....



**Ergänze die Tabelle!**

Klimaregion	Winter	Sommer	Niederschlag	Wasserführung der Flüsse
1.				
2.				
3.				

**4. Welches europäisches Land kannst du nach den folgenden Aussagen erkennen? / 24 P.**

Merkmale	Land	Exportgüter
1. Das Land der Fjorde, aber es hat eine der größten Seehandelsflotten der Welt		
2. Es spielt eine führende Rolle in der Modeindustrie der Welt. Es ist die Speisekammer Europas.		
3. Es ist das meistbevölkerte Land Südeuropas. Seine wichtigste Einnahmequelle ist der Tourismus.		
4. Es ist ein Land in Südeuropa, es nimmt 4/5 einer Halbinsel ein.		
5. Es ist ein militärisch neutrales Land in Nordeuropa. Die Produkte seiner Industrie sind weltberühmt.		

Trage die Nummer der Länder aus der Tabelle auf der Kartenskizze ein! Wie heißen deren Hauptstädte? Schreibe den Namen der Hauptstädte auf der Kartenskizze ein!

Markiere auf der Karteskizze folgende Städte: Neapel und Marseille!

Welche gemeinsamen Merkmale haben beide Städte?

.....



**Insgesamt: ...../60 P.**

**Extra Aufgabe**

**Wer kann die meisten Länder und deren Hauptstädte auf der Kartenskizze Europas benennen?  
Ergänze die Tabelle!**



	<b>Land</b>	<b>Hauptstadt</b>		<b>Land</b>	<b>Hauptstadt</b>
1			22		
2			23		
3			24		
4			25		
5			26		
6			27		
7			28		
8			29		
9			30		
10			31		
11			32		
12			33		
13			34		
14			35		
15			36		
16			37		
17			38		
18			39		
19			40		
20			41		
21			42		



## Arbeitsblatt 4

### Variante B

### Europa

Zu dieser Aufgabe kannst du deinen Atlas benutzen.

#### 1. Welche europäischen Städten haben die folgenden Koordinaten?

/ 4 P.

65° nördlicher Breite, 21° westlicher Länge : .....

56° nördlicher Breite, 13° östlicher Länge: .....

Berechne die Entfernung der obigen Städte in Luftlinie! .....

Lies die Strecke der Schifffahrt zwischen diesen zwei Städten ab! .....

Zu den folgenden Aufgaben darfst du keinen Atlas benutzen!

- a, .....Halbinsel
- b, .....Halbinsel
- c, ..... Inseln
- d, ..... Meer
- 1. ....(Gebirge)
- 2. ....(Gebirge)
- 3. ....(Gebirge)
- 4. ....-Ebene
- 5. .... (Gebirge)
- 6. .... (Tiefebene)



Markiere auf der Kartenskizze die Straßenge Bosphorus!

Welche Oberflächenformungskraft formte die Oberfläche der Landschaft mit der Nummer 4 um?

Unterstreiche den Namen der Schollengebirge!

#### 3. Löse die Aufgaben!



Markiere den Nördlichen Polarkreis rot!

Welche Klimaregionen durchzieht der Nördliche Polarkreis?

.....  
.....  
.....



**Ergänze die Tabelle!**

Klimaregion	Winter	Sommer	Niederschlag	Wasserführung der Flüsse
1.				
2.				
3.				

**4. Welches europäisches Land kannst du nach den folgenden Aussagen erkennen? / 24 P.**

Merkmale	Land	Exportgüter
1. Das ist „das Land der tausend Seen“. Hier ist der Anteil der Nadelwälder am höchsten.		
2. Der Anteil vom Ackerland ist in diesem Land am höchsten in Europa. Die Viehzucht ist der führende Zweig der Landwirtschaft.		
3. Die Staatsform dieses Landes ist parlamentarische Monarchie. In der Vergangenheit war dieses Land „die Werkstatt der Welt“ und „der Heer der Meere“.		
4. Dieses Land ist Europas führender Erdöl- und Erdgasförderer.		
5. Es entstand aus den Nachfolgestaaten der ehemaligen Sowjetunion. Dieses Land erstreckt sich auf zwei Kontinenten.		

Trage die Nummer der Länder aus der Tabelle auf der Kartenskizze ein! Wie heißen deren Hauptstädte? Schreibe den Namen der Hauptstädte auf der Kartenskizze ein!

Markiere auf der Karteskizze folgende Städte: Le Havre und Glasgow!



Welche gemeinsamen Merkmale haben beide Städte?

.....

**Insgesamt: ...../60 P**

### Extra Aufgabe

Wer kann die meisten Länder und deren Hauptstädte auf der Kartenskizze Europas benennen?  
Ergänze die Tabelle!



	Land	Hauptstadt		Land	Hauptstadt
1			22		
2			23		
3			24		
4			25		
5			26		
6			27		
7			28		
8			29		
9			30		
10			31		
11			32		
12			33		
13			34		
14			35		
15			36		
16			37		
17			38		
18			39		
19			40		
20			41		
21			42		